

Grade 3 Assessment



Name: _____

Gender: _____

Class: _____

School Type: Govt

PEF


School Name: _____

School Code: _____


Date: _____

Example Sheet 1



1 2 3
4 5 6



Ball

7 8 

.....

Example Sheet 2

1 2 3 ___ 5

8 4 9

I am ___ boy

a an and

6 ___ 8 9 10

5 7 9

.....

This is ___ test

a an and

.....

End of Examples

PART 1: MATHS

1. Fill in the missing numbers

54	<input type="text" value="55"/>	56	57
<hr/>			
<input type="text" value="342"/>	343	344	345

65	66	<input type="text"/>	68
69	70	71	<input type="text"/>
<hr/>			
525	<input type="text"/>	527	528
529	<input type="text"/>	531	532
<hr/>			

2. Add the numbers together

$$\begin{array}{r} 9 \\ + 3 \\ \hline \boxed{12} \end{array}$$

$$\begin{array}{r} 32 \\ + 46 \\ \hline \boxed{78} \end{array}$$

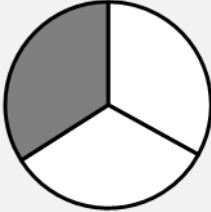
$$\begin{array}{r} 438 \\ + 241 \\ \hline \boxed{679} \end{array}$$


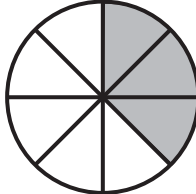
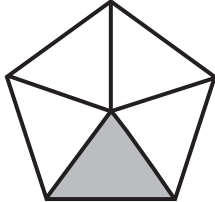
$$\begin{array}{r} 56 \\ + 43 \\ \hline \boxed{} \end{array}$$

$$\begin{array}{r} 48 \\ + 27 \\ \hline \boxed{} \end{array}$$

$$\begin{array}{r} 357 \\ + 445 \\ \hline \boxed{} \end{array}$$

3. Circle the fraction that matches the shaded part

	$\frac{1}{2}$	$\frac{1}{3}$	$\frac{3}{4}$
---	---------------	---------------	---------------

	$\frac{5}{6}$	$\frac{1}{5}$	$\frac{6}{5}$
<hr/>			
	$\frac{5}{8}$	$\frac{3}{8}$	$\frac{5}{6}$
<hr/>			
	$\frac{1}{5}$	$\frac{5}{1}$	$\frac{1}{4}$

4. Subtract the numbers

$$\begin{array}{r} 9 \\ - 3 \\ \hline \end{array}$$

6

$$\begin{array}{r} 32 \\ - 19 \\ \hline \end{array}$$

13

$$\begin{array}{r} 562 \\ - 245 \\ \hline \end{array}$$

317

$$\begin{array}{r} 48 \\ - 35 \\ \hline \end{array}$$

$$\begin{array}{r} 52 \\ - 27 \\ \hline \end{array}$$

$$\begin{array}{r} 561 \\ - 265 \\ \hline \end{array}$$

5. Multiply the numbers

$$2 \times 3 = \underline{\underline{6}}$$


$$6 \times 2 = \underline{\underline{12}}$$

$$6 \times 4 = \underline{\underline{\quad}}$$


$$7 \times 3 = \underline{\underline{\quad}}$$

$$8 \times 5 = \underline{\underline{\quad}}$$


6. Select the correct time given in the clock




6 : 00 12 : 15 12 : 00



3 : 00 12 : 15 12 : 00



5 : 57 11 : 30 6 : 11



1 : 25 1 : 05 5 : 05

7. Divide the numbers

$$6 \div 3 = \boxed{2}$$

$$36 \div 4 = \boxed{9}$$

$$18 \div 3 = \boxed{}$$

$$35 \div 5 = \boxed{}$$

$$28 \div 4 = \boxed{}$$

8. Solve the word problem

Ali has 80 pens. He gets 30 more pens.

علی کے پاس 80 قلم ہیں۔ اس کو 30 اور قلم ملتے ہیں۔

How many does he have now?

اب علی کے پاس کتنے قلم ہیں؟

110

Umar has 68 pencils. He gives 28 pencils to his friend.

عمر کے پاس 68 پنسلیں ہیں۔ وہ 28 پنسلیں اپنے دوست کو دے دیتا ہے۔

How many pencils does Umar have now?

اب عمر کے پاس کتنی پنسلیں ہیں؟

Amna has 57 mangoes. She gets 13 more.

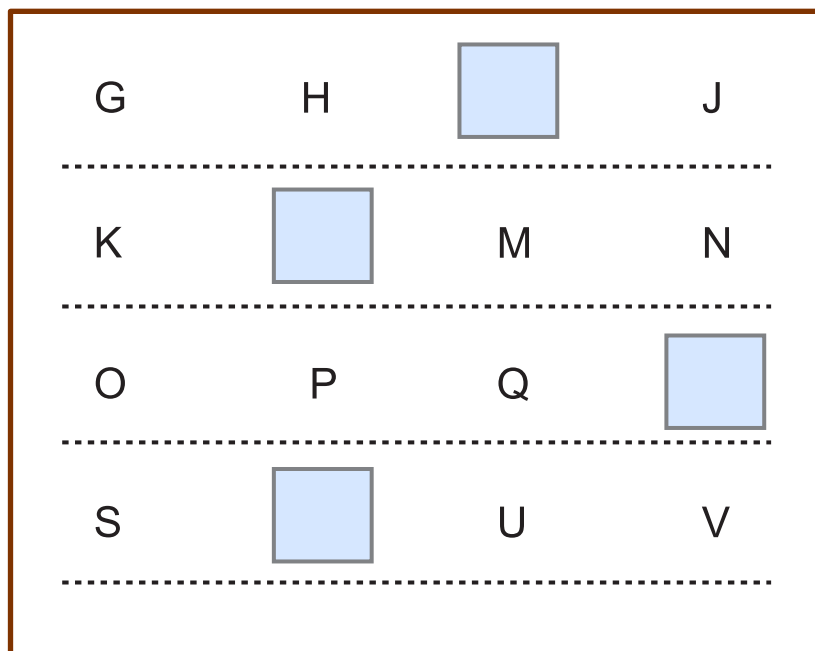
آمنہ کے پاس 57 آم ہیں۔ اسے 13 آم اور ملتے ہیں۔

How many mangoes does Amna have now?



اب آمنہ کے پاس کتنے آم ہیں؟



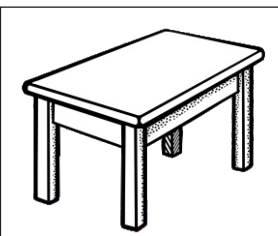
PART 2: ENGLISH

1. Complete the alphabet series






2. Identify the correct spellings of the object given in the picture

	trei Tree Trie		Cat Cot Kat
---	-----------------------------	--	--------------------------

	Mouse Mowse Moce		Vindo Windoo Window
	Tabel Table Tabal		

3. Write the word under the picture

	
<input type="text" value="Dog"/>	<input type="text" value="Cat"/>

	
<input type="text"/>	<input type="text"/>
<hr/>	
	
<input type="text"/>	
<hr/>	

4. Complete the sentence by choosing the correct word

I ___ eating a banana.

am

are

is

Ali ___ my brother.

am

are

is

We ___ writing.

is

am

are

You ___ a car.

her

have

has

He brushes ___ teeth.

his

have

are

5. Complete the sentence by choosing the correct word

__ are eating.

I

We

Us

Help me__

.

!

?

This is a chair. _____ is brown in colour.

It

He

She

_____ is your book?

Who

Are

Where

What are you doing _____

.

?

!

6. Read the passage and write the answers to the questions

Ahmed is a boy. Ahmed likes sweets.

a) What does Ahmed like?

sweets

Sana lives in Lahore. She goes to school daily. Her favourite subject is Math.

a) Where does Sana live?

b) Which is Sana's favourite subject?

c) Where does Sana go?

Zubair saw a mouse on the road. It was sitting on the grass. A cat jumped on the mouse.

a) Who was sitting on the grass?

b) Where did Zubair see the mouse?

c) Who jumped on the mouse?

End of English Test

PART 3: URDU

۱. جوڑ کے توڑ بنائیں

پ	ا	ب	باپ
ل	و	پھ	پھول

				ریل
				محنت
				مصیبت

۲. توڑ کے جوڑ بنائیں

کام	ک ا م
جھول	جھ و ل

	ن م ک
	م ا ل ک
	ک ہ ا ن ی

۳. واحد کے جمع لکھیں

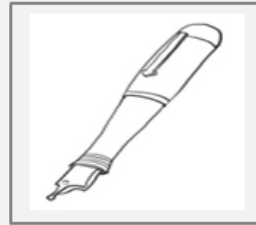
پودے	پودا
باتیں	بات

<input type="text"/>	کمرہ
<input type="text"/>	محلّہ
<input type="text"/>	کتاب




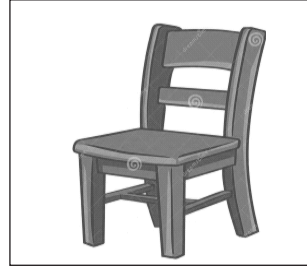

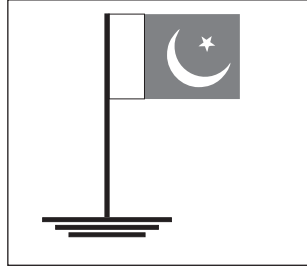
۴. تصویر میں کیا چیز دکھائی گئی ہے



گاڑی



قلم



۵. مذکر کے مونث لکھیں۔

لڑکا	لڑکی
باپ	ماں

چچا	
بیل	
ماموں	

۶. مناسب الفاظ سے جملے مکمل کریں

_____	علی کھیل رہا	
تھا	تھی	تھے
_____	علی کتاب ہے	
کی	کا	کو

_____	میں تیسری جماعت میں پڑھتا	
ہیں	ہوں	ہے
_____	احمد بازار جائے	
گا	گی	گے
_____	فرح کھیل	
رہا	رہی	رہے

۷۔ عبارت پڑھ کر سوالات کے جوابات لکھیں

علی کے دو بھائی ہیں۔ علی ملتان میں رہتا ہے۔

علی کہاں رہتا ہے؟

کرن گاؤں میں رہتی ہے۔ وہ اتوار کو اپنے ابو کے ساتھ کھیت کی سیر کرنے جاتی ہے۔ وہ وہاں درخت کے نیچے کھیلتی ہے اور سبزیاں توڑتی ہے۔

کرن اتوار کے دن کہاں جاتی ہے؟

کرن کہاں رہتی ہے؟

کرن کیا توڑتی ہے؟

ہمارے ملک کا نام پاکستان ہے۔ پاکستان کے چار صوبے ہیں۔
صوبہ بلوچستان رقبے کے لحاظ سے سب سے بڑا صوبہ ہے۔

ہمارے ملک کا کیا نام ہے؟

رقبے کے لحاظ سے سب سے بڑا صوبہ کون سا ہے؟

پاکستان کے کتنے صوبے ہیں؟